



1.SINIF

YAZ
TATILI

KİTAPÇIĞI

AD -SOYAD:



TÜRKÇE

1- Aşağıdaki alfabede verilmeyen harfleri tamamlayınız.

A - B - - Ç - D - - F
 - Ğ - H - - İ - J - - L
 M - - O - Ö - - - S
 - T - U - - - Y -

2- Aşağıdaki verilen sözcüklerin harf sayısını, sesli ve sessiz harflerini tabloya yazınız.

| Sözcükler | Harf Sayısı | Sesli Harfler | Sessiz Harfler |
|------------|-------------|---------------|----------------|
| portakal | | | |
| silgi | | | |
| televizyon | | | |

3- Aşağıdaki sözcüklerin eksik bırakılan hecelerini, bulutlardaki heceleri kullanarak tamamlayınız.

nek çan tap

kon mit le

ki.....lık bal.....ta

la..... be..... si.....çi

4- Aşağıdaki sözcükleri hecelerine ayırıp, hece sayılarını yanlarına yazınız

| Sözcükler | Heceleri | Hece Sayısı |
|-----------|----------|-------------|
| kalemlik | | |
| Atatürk | | |
| tayt | | |

5- Aşağıdaki sözcüklerin kutusunu tek heceli ise maviye, iki heceli ise sarıya, üç heceli ise yeşile, dört heceli ise kırmızıya boyayınız.

| | | |
|----------|---------|----------|
| okul | tren | komyonet |
| limonata | domates | fincan |
| paraşüt | tramvay | el |

6- Aşağıdaki cümlelerin hece sayısını yazın.

| Cümleler | Hece Sayısı |
|---------------------------------------------|-------------|
| Okulda altı ders işledik. | |
| Boş zamanlarımda kitap okumayı çok severim. | |

7- Aşağıdaki verilenlerin harf mi, hece mi, kelime mi olduğunu tablodan işaretleyiniz.

| Hangisi? | Harf | Hece | Kelime |
|----------|------|------|--------|
| al | | | |
| k | | | |
| nır | | | |

6

MATEMATİK

1- Aşağıdaki en önde olan yarışmacıyı işaretleyiniz.



2- Aşağıdaki kediler kutunun neresinde? Uygun konum ile eşleştiriniz.




Kedi Kutunun
Altında

Kedi Kutunun
Yanında

Kedi Kutunun
Üstünde

Kedi Kutunun
İçinde

3- Aslanın sağındaki hayvanı işaretleyiniz.




A) fil

B) tavşan

C) zürafa

4- Tavşanın solundaki hayvanı işaretleyiniz.




A) fil


B) aslan

C) zürafa

5- Aşağıdaki çoraplardan eşi olmayanı işaretleyiniz.



6- Eş yiyeceklerin kutularını aynı renge boyayınız.



7- Aşağıdaki rakamları okunuşları ile eşleştiriniz.

3
5
6
9
2

iki






altı

dokuz

beş


üç

7- Üzerinde rakam yazan elmaları boyayınız.



HAYAT BİLGİSİ

1- Aşağıdaki görseller okulun hangi bölümlerine ait olabilir? Resimler ile bölümleri eşleştiriniz.



| |
|------------|
| kütüphane |
| tuvaletler |
| kantin |

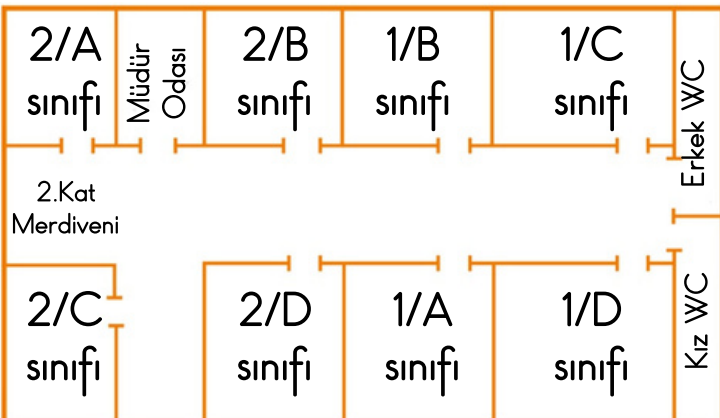
2- Sınıfımızda bulunan şeref köşesinde yer alanları boyayınız.

| | |
|------------------------------------|-----------------|
| Türk Bayrağı ve İstiklal Marşı | Mevsim Şeridi |
| Mustafa Kemal Atatürk'ün fotoğrafı | Gençliğe Hitabe |

3- Mert'in ifadesine göre sınıfının yerini bulup boyayınız.



Sınıfım merdivenlerden çıkınca sol taraftadır. Sağ tarafında 1/C sınıfı, sol tarafında 2/B sınıfı var. 1/A sınıfı benim sınıfımın karşısındadır.



4- Aşağıdaki tabloda içinde sınıf araç gereçleri yazan kutuları boyayınız.

| | | |
|---------|------------|-----------|
| radyo | sıra | koltuk |
| askılık | perde | halı |
| tahta | çöp kovası | pano |
| mum | kitaplık | buzdolabı |

5- Sınıf kurallarına uygun olan davranışları işaretleyiniz..

- Sınıf kapısını tekme ile açmak.
- Parmak kaldırarak söz hakkı almak.
- Yere çöp atmamak.
- Öğretmeni sınıf kapısında beklemek.

6- Okul kurallarına uyan bir öğrencinin yapacağı davranışları yeşile, yapmayacağı davranışları kırmızıya boyayınız.

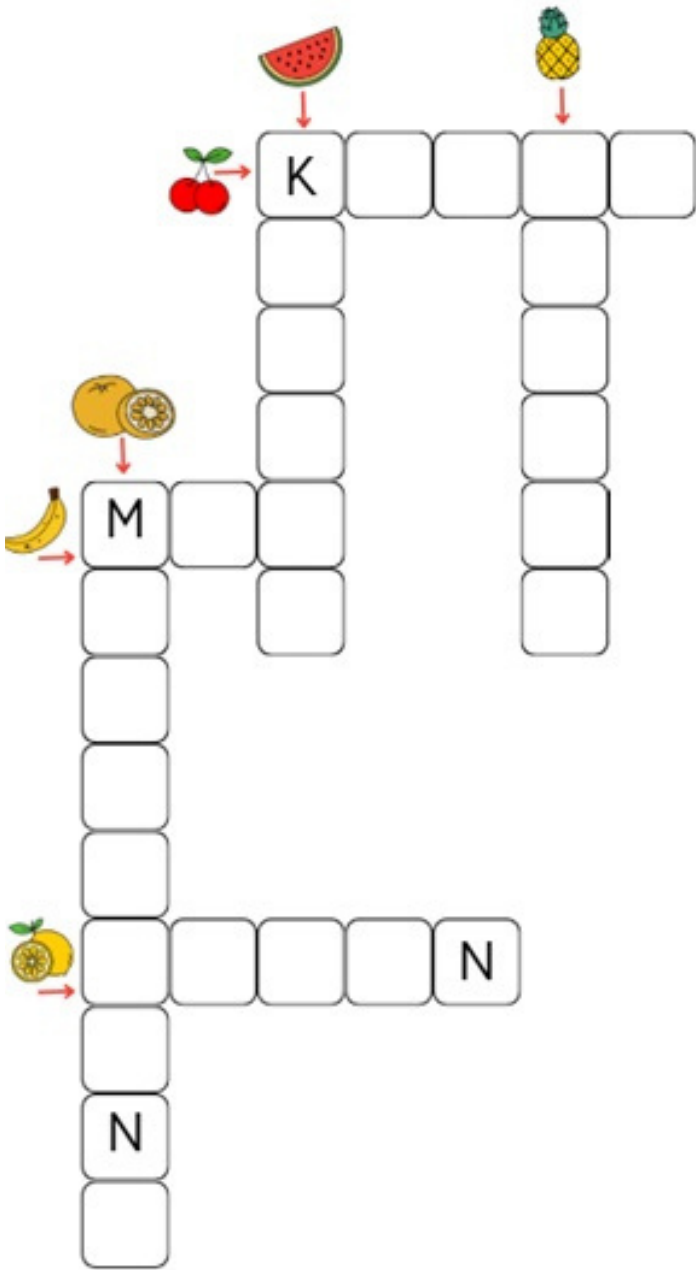
| | | |
|--------------------------------------|--------------------------|---------------------------------|
| Kantinde sıraya girerim. | Sabah okula geç kalırım. | Okul bahçesine çöp atarım. |
| Merdivenlerden koşarak inip çıkarım. | Koridorlarda koşmam. | Başka sınıflara izinsiz girmem. |

7- Okulda hangi görevi kim yapar? Eşleştiriniz.

| | |
|------------------|--------------------|
| Okulun temizliği | Öğretmen |
| Okul yönetimi | Temizlik görevlisi |
| Ders anlatma | Okul Müdürü |

BİL - BUL - EĞLEN

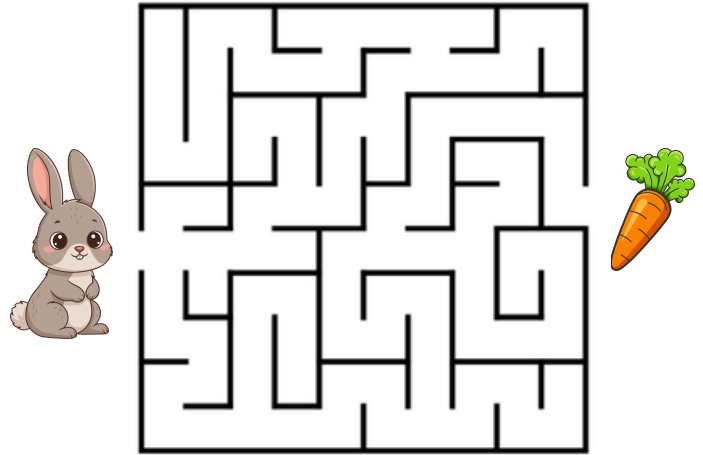
1- Resimlerde gösterilen meyvelerin isimlerini ipuçlarını kullanarak bulmacaya yerleştiriniz.



2- Aşağıdaki sudokuyu yatay ve dikey her satırda 1-2-3-4 rakamlarından birer tane olacak şekilde tamamlayınız.

| | | | |
|---|---|---|---|
| | 3 | 4 | |
| 4 | | | 2 |
| 1 | | | 3 |
| | 2 | 1 | |

3- Tavşanın havuca ulaşması için labirentteki doğru yolu çiziniz.



4- Aşağıdaki resfebede gizlenmiş sözcüğü bulup altına yazınız.



.....

TÜRKÇE

1- Aşağıdaki heceleri karışık verilen sözcükleri ait kutulara yazınız.

| | | |
|----------|-------------|-------------|
| ta - çan | ta-mo-na-li | ba - ra - a |
| | | |

| | | |
|----------|-----------|---------|
| tap - ki | da-ku-man | at - sa |
| | | |

2- Aşağıda verilen heceleri kullanarak hangi görselin adını yazamayız? İşaretleyiniz.

| | |
|----|-----|
| se | el |
| bi | pet |



| | |
|----|----|
| sa | ra |
| pı | ka |



3- Aşağıda verilen heceler ile başlayan kelimeler oluşturunuz.

| | | |
|-------|-------|-------|
| ki- | at- | o- |
| | | |

| | | |
|-------|-------|-------|
| bal- | si- | yağ- |
| | | |

4- Aşağıdaki cümlelerdeki kelime sayılarını yanlarına yazınız

| Cümleler | Kelime Sayısı |
|-------------------------------|---------------|
| Okulda tiyatro gösterisi var. | |
| Bu kalem yüz yirmi beş lira. | |
| Ne zaman geleceksin? | |

5- Aşağıdaki sözcükler satır sonunda doğru ayrıldıysa "✓", yanlış ayrıldıysa "✗" kutucuğunu boyayınız.

| | | | |
|-----|-----|---|---|
| as- | lan | ✓ | ✗ |
|-----|-----|---|---|

| | | | |
|-----|------|---|---|
| ko- | ltuk | ✓ | ✗ |
|-----|------|---|---|

| | | | |
|------|--------|---|---|
| kal- | abalık | ✓ | ✗ |
|------|--------|---|---|

| | | | |
|-----|-----|---|---|
| as- | lan | ✓ | ✗ |
|-----|-----|---|---|

| | | | |
|-----|----|---|---|
| ağ- | aç | ✓ | ✗ |
|-----|----|---|---|

| | | | |
|------|-----|---|---|
| kay- | ısı | ✓ | ✗ |
|------|-----|---|---|


6- Aşağıdaki sözcüklerin satır sonuna sığmadığında kaç farklı şekilde ayrılabilceğini yanlarına sayı ile yazınız.

| Kelime | Kaç Şekilde Ayrılabilir? |
|-------------|--------------------------|
| televizyon | |
| kitaplık | |
| balkon | |
| ayakkabılık | |
| kurt | |


6

MATEMATİK


1- 1'den başlayıp 20'ye kadar olan sayıları sırayla aşağıdaki boşluğa yazınız.




2- Aşağıdaki nesnelerin kaç tane olduğunu sayıp, sayılarını yanlarına yazınız.



..... tane



..... tane

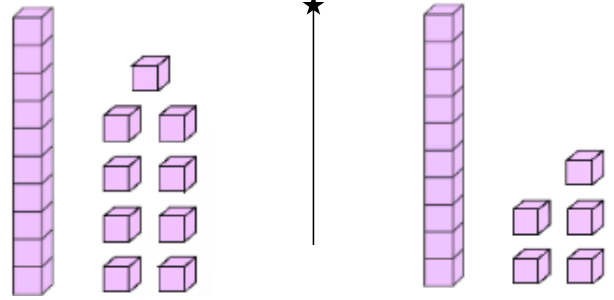


..... tane

3- Aşağıdaki nesnelerin 10 tanesini yuvarlak içine alarak, kaç onluk kaç birlikten oluştuklarını yanlarına yazınız.

| Nesneler | Kaç Onluk Kaç Birlik |
|----------|-----------------------------|
| | onluk birlik |
| | onluk birlik |

4- Aşağıdaki onluk taban blokları ile gösterilen sayıların kaç onluk kaç birlik olduğunu, hangi sayıya eşit olduğunu yazınız.



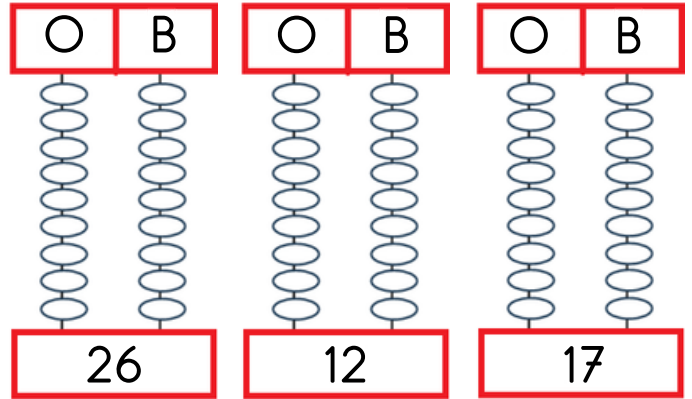
..... onluk birlik

.....

..... onluk birlik

.....

5- Aşağıdaki onluk birlik çubuklarının altındaki sayılara göre boncukları boyayınız.



26

12

17

6- Onluk birlikleri verilen sayıları yazınız.

1 onluk 8 birlik =

4 onluk 4 birlik =

2 onluk 7 birlik =

6 onluk 1 birlik =

3 onluk 9 birlik =

HAYAT BİLGİSİ

1- Aşağıdakilerden fiziksel özellik olanların kutularını istediğiniz renkte boyayınız.

| | | |
|--------------|----------------------|-----------------------------|
| Saç rengimiz | Sevdiğimiz spor dalı | Göz rengimiz |
| Boyumuz | Kilomuz | Yetenekli olduğumuz alanlar |

2- Aşağıdaki yüz ifadelerini, belirttikleri duygular ile eşleştiriniz.

| | |
|--------|-------------------------------------------------------------------------------------|
| Mutlu |  |
| Kızgın |  |
| Üzgün |  |
| Şaşkın |  |

3- Aşağıdaki cümleleri, o durumda hissedeceğiniz duyguyu yazarak tamamlayın.

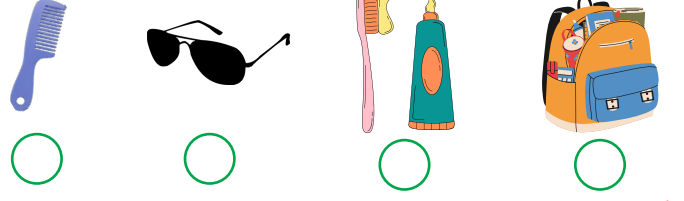
Çok sevdiğim oyuncakım kaybolursa kendimi hissederim.

Katıldığım yarışmada birinci olursam kendimi hissederim.

Birden gürültülü bir ses duyduğumda kendimi hissederim.

Şehir dışında yaşayan teyzem sürpriz yapıp bize gelirse hissederim.

4- Aşağıdaki nesnelere kişisel bakım için kullandıklarımızı işaretleyiniz.



5- Aşağıdaki bilgiler doğru ise "✓" yanlış ise "✗" kutucuğunu boyayınız.

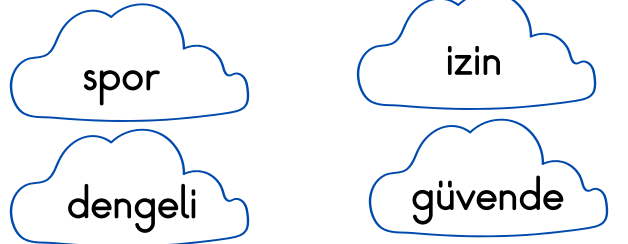
- Yemekten önce ellerimizi yıkamalıyız.
- Tırnaklarımızı her gün kesmeliyiz.
- Haftada en az 1 kez banyo yapmalıyız.
- Tüm aile, aynı diş fırçasını kullanabiliriz.



6- Yukarıdakilerden hangilerini çok tüketmek sağlığımız için zararlıdır?

- A) 1-2 B) 2-3 C) 1-2-3

7- Aşağıdaki cümleleri kelimelerdeki uygun sözcükler ile tamamlayınız.



- Kişisel alanımızın olması bizi hissettirir.
- Arkadaşım bana sarılmak için istemelidir.
- Sağlıklı büyümek ve gelişmek için beslenmeliyiz.
- Düzenli olarak yapmalıyız.

BİL - BUL - EĞLEN

1- Aşağıdaki metni okuyup soruları metne göre cevaplayınız.

KEDİ

Pamuk, beyaz ve yumuşak tüylü bir kedidir. Süt içmeyi çok sever. Her sabah sütünü içtikten sonra bahçeye çıkar, topu ile oyun oynar.

Akşam olunca sepetine gider ve orada uyur.

- Pamuk'un tüyleri ne renktir.?

A) Sarı B) Siyah C) Beyaz

- Pamuk sabahları ne içer?

A) su B) süt C) ayran

- Pamuk bahçede ne ile oynar?



A) top B) ip C) oyuncak

- Pamuk akşam olunca nerede uyur?

A) koltukta B) bahçede
C) sepette

2- Köpeğin olduğu yerden başlayarak, köpeği kemiğe ulaştıracak algoritmayı oklarla çiziniz.

ÖRNEK YÖN OKLARI



ÇÖZÜM ALGORİTMASI



3- 1'den 36'ya kadar olan noktaları sırayla birleştirin, oluşan resmi istediğiniz gibi boyayın.



TÜRKÇE

1- Aşağıdaki sözcüklerden tek başına anlamı olmayanların kutusunu boyayınız.

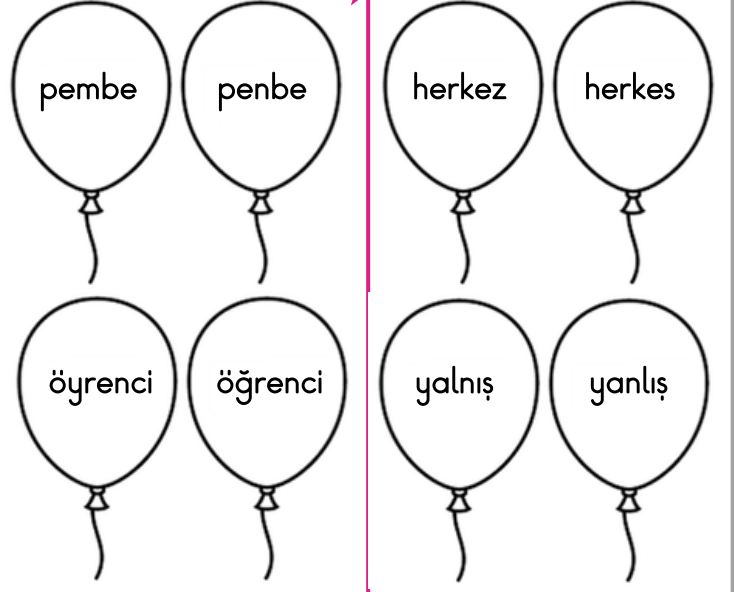
| | |
|-------|-------|
| kalem | belki |
| ama | koştu |
| fakat | bazen |
| kuş | ise |
| balon | dolu |

2- Aşağıdaki cümlelerde boş bırakılan yerleri uygun ifadeler ile doldurunuz.



- Yağmur yağdığı pikniğe gidemedik.
- Pazardan elma armut alalım.
- Kedimin tüyleri pamuk yumuşak.
- Akşama ders çalıştım.
- Sinemaya mı tiyatroya mı gidelim?
- Kek yapacaktım evde yumurta kalmadığını görünce vazgeçtim.

3- Aşağıda verilen sözcüklerden yazımı doğru olanları yeşile, yanlış olanları kırmızıya boyayınız.



6- Aşağıdaki cümlelerde yazımında hata yapılan sözcüklerin altını çiziniz, doğru yazımını altına yazınız.

Çukolata yemeyi çok severim.

.....

Doğum gününde anneme sürpriz yaptık.

.....

Baharda polenler beni hapsurtuyor.

.....

Hazırladığın herşey çok güzeldi.

.....

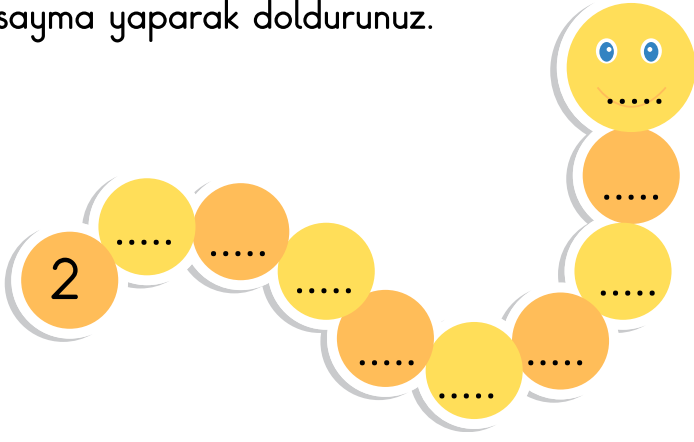
En sevdiğim ders matamatik.

.....

6

MATEMATİK

1- Noktalı yerleri ileri doğru 2'şer ritmik sayma yaparak doldurunuz.



2- 20'den geriye doğru 2'şer ritmik sayınız, her söylediğiniz sayıyı boyayarak ilerleyiniz.

| | | | | | | | | | |
|----|----|----|----|----|----|----|----|----|----|
| 20 | 19 | 18 | 17 | 16 | 15 | 14 | 13 | 12 | 11 |
| 10 | 9 | 8 | 7 | 6 | 5 | 4 | 3 | 2 | 1 |

3- Aşağıdaki tabloyu verilen ritmik sayma ve başlangıç sayısına göre doldurunuz.

| Kaçar Ritmik Sayma? | Ritmik saymaları yazınız |
|---------------------|------------------------------------------------------------|
| ileri | 5 - - - - - - 100. |
| 5'er | 5 - - - - - - 100. |
| 10'ar | 50 - - - - - - 100. |
| geri | 50 - - - - - - 5 |

4- Terkrar eden sayı örüntülerini kurala göre devam ettiriniz.

| | | | | | | | | | |
|---|---|---|---|-----|-----|-----|-----|-----|-----|
| 1 | 4 | 1 | 4 | ... | ... | ... | ... | ... | ... |
| 2 | 2 | 6 | 2 | 2 | ... | ... | ... | ... | ... |
| 3 | 5 | 8 | 3 | 5 | ... | ... | ... | ... | ... |

5- Aşağıdaki şekil örüntülerinin kurallarını altlarına yazınız.



Örüntünün Kuralı:



Örüntünün Kuralı:

5- Aşağıdaki örüntüleri verilen kurala göre boyayınız.

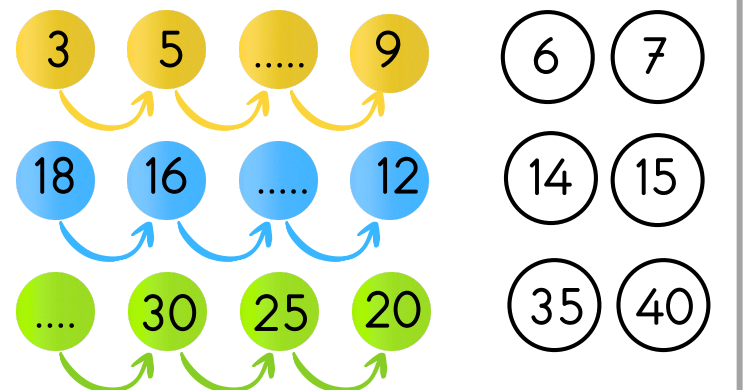
Örüntünün Kuralı: 2 sarı 1 yeşil



Örüntünün Kuralı: 3 pembe 2 turuncu 1 mor



6- Aşağıdaki örüntülerde boş bırakılan yere gelmesi gereken sayıyı boyayınız.



6 HAYAT BİLGİSİ

1- Aşağıdaki bilgiler doğru ise "✓" yanlış ise "✗" kutucuğunu boyayınız.

- ✓ ✗ Çocukların emniyet kemeri takmasına gerek yoktur.
- ✓ ✗ Trafik lambasında yeşil ışık "geç" demektir.
- ✓ ✗ Trafik kurallarına sadece sürücüler uymalıdır.
- ✓ ✗ Duran taşıtların arasından geçmemeliyiz.

2- Aşağıdaki tanımları doğru sözcüklerle eşleştiriniz.

Araba, otobüs gibi araçlar

kaldırım

Yürüyerek giden kişi.

şoför




Araba, otobüs kullanan kişi.

yaya

Yolun kenarındaki yaya yolu

taşıt

3- Kurallara uyan kişilerin olduğu görsellerin dairesini boyayınız.



4- Aşağıdaki acil durumlarda hangi kurumu aramalıyız? Eşleştiriniz.



Kaza ve yaralanmalarda

Köy ve kasabadaki acil durumlarda

Hırsızlık, kavga gibi olaylarda

Yangınlarda

5- "1-1-2 Çağrı Merkezi"ni aramamız gereken acil durumların yazılı olduğu kutuları istediğiniz renge boyayınız.

Çorabım yırtıldı.

Karşı apartmanda yangın çıktı

Evimize hırsız girdi.

Kardeşim izinsiz odama girdi.

Yolda iki araç kaza yaptı.

Evde ikimiz varken annem bayıldı.

6- Okul bahçesinde bir arkadaşın yere düştü ve yaralandı. Bacağını oynatamıyor. Sırasıyla hangilerini yapmalısın? Numaralandır.


1-1-2 Çağrı Merkezi'ni ararız.

Öğretmenime haber veririm.


Sakin kalırım.

BİL - BUL - EĞLEN



1- Aşağıdaki adımları izleyerek bir kurbağa çiziniz, istediğiniz gibi boyayınız.



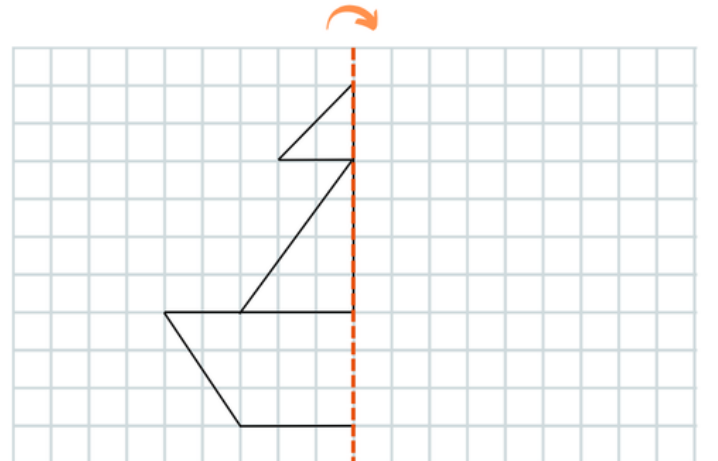
ŞİMDİ SEN ÇİZ



2- Resimlerdeki 7 farkı bulunuz, resimleri istediğiniz renklerde boyayınız.



3- Aşağıdaki resmi çizginin diğer tarafında yansıması olacak şekilde tamamlayıp istediğiniz renklerde boyayınız. Oluşan nesnenin adını altına yazınız.



Ne Çizdim:

TÜRKÇE

1- Aşağıdaki harflerden önce ve sonra gelen harfleri yazınız.

| Önce | | Sonra |
|------|---|-------|
| | M | |
| | P | |
| | Ğ | |
| | C | |

2- Aşağıdaki harfler ile başlayan isimler bulup yazınız.

K

A

| İsim | | İsim | |
|--------|-------|--------|-------|
| Şehir | | Şehir | |
| Hayvan | | Hayvan | |
| Meyve | | Meyve | |
| Eşya | | Eşya | |

3- Aşağıdaki sözcüklerden sözlükte daha önde olanın kalbini boyayınız

| | |
|-------|--------|
| deniz | boncuk |
| ♥ | ♥ |

| | |
|-------|----------|
| sakız | çikolata |
| ♥ | ♥ |

| | |
|-------|---------|
| pilot | hemşire |
| ♥ | ♥ |

| | |
|-------|-------|
| çatal | tabak |
| ♥ | ♥ |

4- Aşağıdaki sözcükleri alfabetik sıralamaya göre sıralayıp yazınız.

| | |
|-----------|---------|
| Pazartesi | 1. |
| Salı | 2. |
| Çarşamba | 3. |

| | |
|---------|---------|
| Haziran | 1. |
| Temmuz | 2. |
| Ağustos | 3. |

| | |
|-------|---------|
| balık | 1. |
| kuş | 2. |
| fil | 3. |

5- Aşağıdaki varlık isimlerini sözlük sırasına göre sıralayarak yazınız



| | | | |
|---|-------|---|-------|
| 1 | | 1 | |
| 2 | | 2 | |
| 3 | | 3 | |




| | | | |
|---|-------|---|-------|
| 1 | | 1 | |
| 2 | | 2 | |
| 3 | | 3 | |

6

MATEMATİK

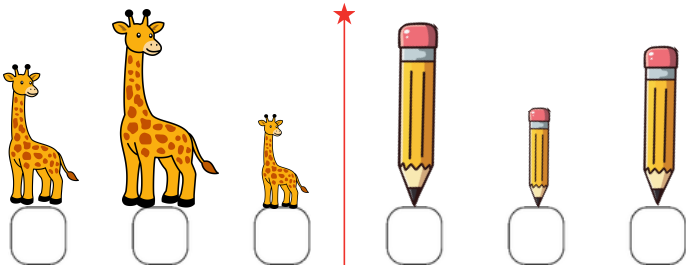
1- Aşağıdaki paralardan büyük olanın altındaki daireyi boyayınız.



2- Aşağıdaki ürünlerin fiyatları verilmiştir. Ürünleri para üstü olmadan alabilmek için kullanılması gereken paraları işaretleyiniz.

| | | | |
|-----------------------------------------------------------------------------------------------|-------------------------------------------------------------------------------------|-------------------------------------------------------------------------------------|-------------------------------------------------------------------------------------|
|  15 TL |  |  |  |
|  70 TL |  |  |  |
|  30 TL |  |  |  |
|  250 TL |  |  |  |

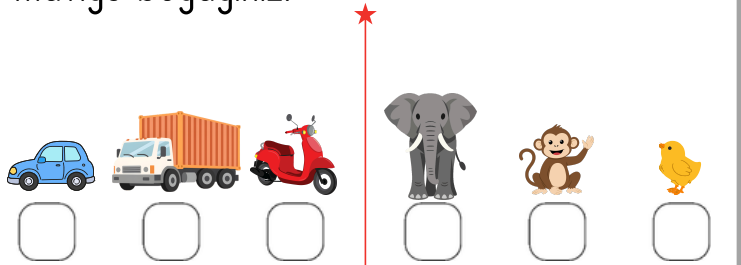
3- Aşağıdaki görselleri en uzundan kısaya doğru 1, 2, 3 şekilde sıralayınız.




4- Aşağıdaki standart olmayan uzunluk ölçme birimlerini doğru görsel ile eşleştiriniz.

| | |
|------------------------------------------------------------------------------------|--------|
|  | karış |
|  | kulaç |
|  | ayak |
|  | parmak |
|  | adım |

5- Aşağıdaki varlıklardan en ağır olanın dairesini kırmızıya, en hafif olanın dairesini maviye boyayınız.



6- Aşağıdaki meyvelerin kütleleri ile ilgili cümlelere doğru sözcükleri yazınız.



hafiftir


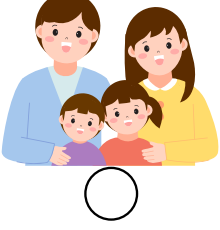
ağırdır

eşittir

- Karpuz elmadan
- Elma ile portakalın kütlesi
- Elma karpuzdan
- Portakal karpuzdan
- Karpuz portakaldan

HAYAT BİLGİSİ

1- Aşağıdaki aile görsellerinden çekirdek aile olanı mora, geniş aile olanı sarıya boyayınız.



2- Aşağıdaki kişilerden çekirdek ailede yer alanların kutusunu turuncuya, geniş ailede yer alanların kutusunu yeşile boyayınız.

| | | |
|-------|------|------|
| teyze | abi | dayı |
| amca | dede | baba |
| abla | anne | hala |

3- Aşağıdaki durumlarda kullanmamız gereken nezaket ifadelerini doğru şekilde eşleştirip yazınız.

lütfen - özür dilerim - geçmiş olsun - günaydın

| | |
|------------------------------------------------------|-------|
| Kalemimi evde unuttum, arkadaşımдан kalem istiyorum. | |
| Yanlışlıkla arkadaşşıma çarptım. | |
| Arkadaşıım hasta olduđu için iki gün okula gelemedi. | |
| Sabah sınıfa girdiğimde arkadaşşıımı gördüm. | |

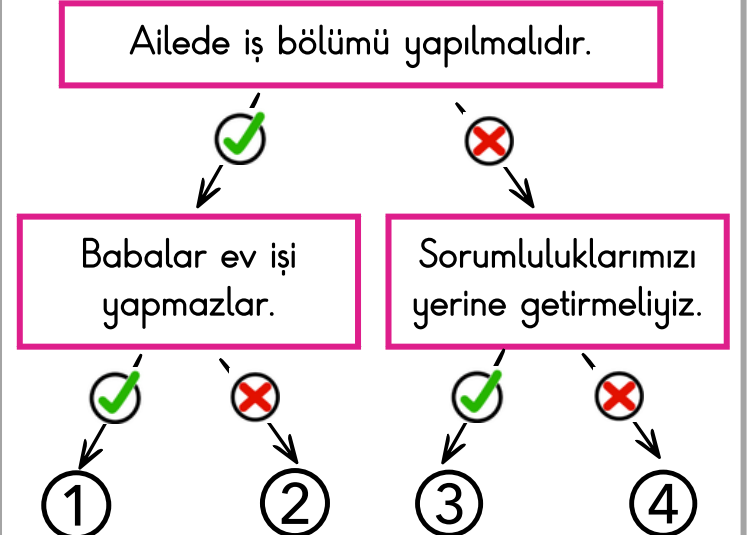
4- Aşağıdaki nezaket ve görgü kuralları ile ilgili bilgilerden doğru olanların "✓", yanlış olanların "✗" sembolünü boyayınız.

- ✓ ✗ Ablamın odasına girerken kapısını çalmadan açarım.
- ✓ ✗ Yemek yerken ağızımı şapırdatmam.
- ✓ ✗ Arkadaşıma sormadan çantasından kalemını alırım.
- ✓ ✗ Ağızımı kıyafetimin kollarına silerim.
- ✓ ✗ Sofradan kalkarken yemeği hazırlayan kişiye "eline sağlık" derim.

5- 7 yaşında bir çocuğun görev ve sorumluluklarından olanları işaretleyiniz.

| | |
|--------------------------------|-------------------------------------------|
| Bozulan musluğu tamir etmek. | Kirli çamaşırlarını kirli sepetine atmak. |
| ○ | ○ |
| Odasını toplamak. | Ödevlerini yapmak. |
| ○ | ○ |
| Evcil hayvanımıza mama vermek. | Evdeki bozulan ampulü değiştirmek. |
| ○ | ○ |

6- Doğru ifadeleri takip edip ulaştığınız sayıyı boyayınız.



BİL - BUL - EĞLEN

1- Aşağıdaki kelimeleri bulmacada bulup boyayınız. Geriye kalan harflerle oluşan şifreyi altına yazınız.

DENİZ - KUM - EV
HAVLU - ETEK - BULUT
KİRPİ - TERLİK
KİTAP - ADA

| | | | | | |
|---|---|---|---|---|---|
| A | D | A | B | K | İ |
| T | E | R | L | İ | K |
| L | N | E | H | R | U |
| K | İ | T | A | P | M |
| G | Z | E | V | İ | İ |
| S | A | K | L | Y | A |
| B | U | L | U | T | R |

ŞİFRE:

.....

2- Aşağıdaki sudokunun her satır ve sütununda 1-2-3-4 rakamları yer almalıdır. Buna göre boşlukları tamamlayınız.

| | | | |
|---|---|---|---|
| 1 | 3 | 4 | 2 |
| | | | |
| 2 | | 3 | |
| | 4 | | 1 |

3- Aşağıdaki prensesi labirentteki doğru yoldan götürerek şatosuna ulaştırınız.



TÜRKÇE

1- Aşağıda verilen noktalama işaretlerini, kullanıldığı yerler ile eşleştiriniz.



Soru İşareti



Nokta



Kısa Çizgi



Virgül



Ünlem İşareti

Eş görevli sözcüklerin arasına.

Satır sonuna sığmayan sözcükleri yazarken.

Duyguları anlatan sözlerin sonuna.

Cevap bekleyen cümlelerin sonuna.

Tamamlanmış cümlelerin sonuna.

2- Aşağıdaki cümlelere tablodaki işaretlerden uygun olanları getiriniz.

| | | | | |
|---|---|---|---|---|
| ? | . | ! | , | ' |
|---|---|---|---|---|

- Eyvah ()
- Yarışmada 2 () oldum ()
- Ne zaman geleceksin ()
- Çantamda kitap () defter ve silgi var.
- Aslı ()ya ne hediye aldın ()
- Saat 12 () 30 ()da buluşalım ()
- Yaşasın () kaybettiğim kalemimi buldum ()

3- Aşağıdaki cümlelerde büyük harflerin yazımı ile ilgili hata yapılan sözcükleri daire içine alınız.

Yarın, arkadaşım mert ile buluşacağım.

Bu yıl cumhuriyet bayramında şiir okudum.

Dayımın köpeğinin adı köpük.

Küçük prens kitabını okumaya başladım.

bugün hava çok güzel.

Teyzemler izmirde yaşıyor.

4- Aşağıdaki sözcüklerden cümlelerin her yerinde büyük harf ile başlaması gerekenleri işaretleyiniz.

| | | |
|---------|-------|---------|
| Kalem | Bursa | Esra |
| Atatürk | Simit | Türkiye |

5- Aşağıdaki cümlelerde büyük harflerin yazımı doğru ise "D", yanlış ise "Y" harfini boyayınız.

yarın pikniğe gideceğiz

D Y

Kitabı Ali'den ödünç aldım.

D Y

Bu yaz tatilde antalyaya gideceğiz.

D Y

Ağrı dağı en yüksek dağımızdır.

D Y

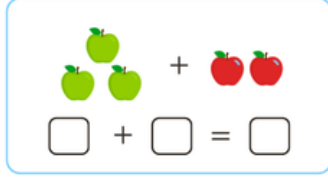
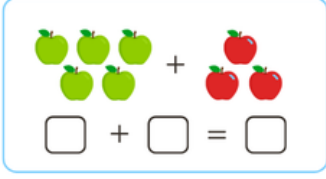
İstiklal Marşını ezbere biliyorum.

D Y

6

MATEMATİK

1- Aşağıdaki toplama işlemlerini yapınız



2- Aşağıda verilen toplama işlemlerini yapıp sonuçlarını yazınız.

$$\begin{array}{r} 8 \\ + 7 \\ \hline \dots \dots \end{array} \quad \begin{array}{r} 3 \\ + 6 \\ \hline \dots \end{array} \quad \begin{array}{r} 9 \\ + 7 \\ \hline \dots \dots \end{array}$$

3- Aşağıda verilen toplama işlemlerini doğru sonuçlar ile eşleştiriniz.

| | | |
|---------|--|---------|
| $8 + 2$ | | $6 + 6$ |
| $6 + 7$ | | $1 + 9$ |
| $9 + 6$ | | $7 + 8$ |
| $5 + 1$ | | $3 + 3$ |
| $3 + 9$ | | $5 + 8$ |

4- Aşağıdaki toplama işlemlerinin sonucunu bulup boyayınız.

$$\begin{array}{r} 9 \\ + 3 \\ \hline \dots \dots \end{array} \quad \begin{array}{r} 6 \\ + 5 \\ \hline \dots \dots \end{array}$$

12 13 14 10 11 12

5- Aşağıdaki problemleri çözünüz.

12 sayısının 5 fazlası kaç eder?

Benim 7 kalemim vardı. Ablam bana 4 kalem daha verdi. Kaç kalemim oldu?

3 sayısından önce gelen sayı ile 13 sayısından sonra gelen sayının toplamı kaçtır?

1 onluk 5 birlikten oluşan sayı ile 3 birlikten oluşan sayının toplamı kaçtır?

HAYAT BİLGİSİ

1- Aşağıdakilerden hangisi ülkemizin bayrağıdır? İşaretleyiniz.



2- Aşağıdakilerden hangisi ülkemizin bağımsızlığının sembolü **değildir**?

- A) Türk Bayrağı
- B) Okulumuz
- C) İstiklal Marşı

3- Okullarda hangi günlerde bayrak töreni yapıp İstiklal Marşı'nı söyleriz?

- A) Salı - Perşembe
- B) Çarşamba - Cuma
- C) Pazartesi - Cuma

4- Aşağıdaki bilgilerden doğru olanları işaretleyiniz.

- İstiklal Marşı'nın şairi Mustafa Kemal Atatürk'tür.
- Bayrağımız her 10 Kasım'da gönderde yarıya kadar indirilir.
- Bayrağımızı kirletmek, yere atmak doğru bir davranış değildir.
- Türk Bayrağı'nın renkleri mavi ve beyazdır.
- Bayrak töreninde hazır ola geçip marşımızı coşkuyla söylemeliyiz.

5- Aşağıda verilen Mustafa Kemal Atatürk ile ilgili cümleleri, kutudaki uygun sözcükler ile tamamlayınız.

| | | |
|-----------|----------|--------------|
| matematik | 1881 | Makbule |
| Zübeyde | Ali Rıza | Şemsi Efendi |

- yılında, Selanik'te doğmuştur.
- Annesi Hanım'dır.
- Babası Efendi'dir.
- Kız kardeşinin adı'dir.
- İlkokulda önce Mahalle Mektebi'ne, sonra İlkokulu'na gitmiştir.
- En sevdiği derstir.

6- Aşağıdaki olayları oluş sırasına göre sıralayıp başlarına 1. - 2. - 3. - 4. yazınız.

- Atatürk yurdumuzu düşmanlardan kurtardı.
- Atatürk Dolmabahçe Sarayı'nda vefat etti.
- Atatürk Türkiye Cumhuriyeti'ni kurdu.
- Atatürk 1881 yılında Selanik'te doğdu.

7- Aşağıdaki görselin adını ve bulunduğu yeri yazınız.



Adı

.....

Bulunduğu Şehir

.....

BİL - BUL - EĞLEN

1- Aşağıdaki soruları metne göre cevaplayınız.

MİNİK KELEBEK PIRPIR

Minik kelebek Pırpır, etrafta dolaşmayı çok seviyordu. Pırpır'ın turuncu kanatları vardı.


Renkli çiçeklere uçup, hepsini tek tek koklardı. En sevdiği çiçek güldü. Pembe güllerin kokusunu çok sevdiği için önce pembe güllere uçardı. Çiçekleri koklayınca çok mutlu olurdu.

- Pırpır'ın kanatları ne renkti?
 - A) Sarı
 - B) Turuncu
 - C) Mavi
- Pırpır'ın en sevdiği çiçek neydi?
 - A) Sarı laleler
 - B) Beyaz papatyalar
 - C) Pembe güller
- Pırpır, çiçekleri kolayınca kendini nasıl hissedirdi?
 - A) mutlu olurdu
 - B) heyecanlanırdı
 - C) korkardı

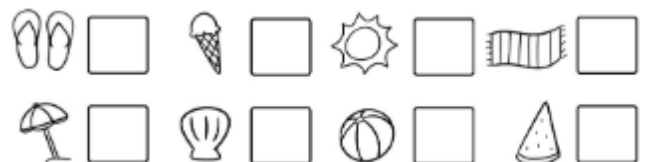
2- Aşağıdaki resmi yönergelere uygun renklerde boyayınız.



- Ortadaki çocuğun sarı saçları var. Atleti mavi, şortu yeşil renkte.
- En sağdaki çocuğun siyah saçları var. Tişörtü sarı, eteği pembe renkte.
- En soldaki çocuğun kahverengi saçları var. Elbisesi kırmızı renkte. Mor tokalar takmış.



3- Aşağıdaki nesnelere sayarak, hangisinden kaç tane olduğunu alttaki kutulara yazınız.



TÜRKÇE

1- Aşağıda verilen sözcüklerden tekil ad olanları sarıya, çoğul ad olanları turuncuya boyayınız.

| | | |
|-------|----------|----------|
| balık | ağaçlar | kalemler |
| evler | kitap | kiler |
| olta | arabalar | orman |

2- Aşağıdaki sözcüklerden tekil ad olanların "T", çoğul olanların "Ç" butonunu boyayınız.

| | | |
|-------------|--------|----------|
| balıklar | maymun | okul |
| T Ç | T Ç | T Ç |
| kiraz | eller | balonlar |
| T Ç | T Ç | T Ç |
| portakallar | elbise | ipler |
| T Ç | T Ç | T Ç |

3- Aşağıdaki meyve adlarını çoğul ad yaparak yanlarına yazınız.

| Tekil | Çoğul | Tekil | Çoğul |
|--------|-------|-------|-------|
| kase | | kaşık | |
| yılan | | üzüm | |
| fincan | | polar | |

4- Aşağıdaki sözcüklerden özel ad olanları kırmızıya, cins (tür) ad olanları maviye boyayınız.

| | | |
|----------|--------|--------|
| İstanbul | Mirnav | Sokak |
| Lamba | Ali | Nutuk |
| Havlu | Pamuk | Terlik |

5- Aşağıdaki özel adlara gelen ekleri doğru yerden kesme işareti ile ayırarak yazınız.

| | |
|--------------|-------|
| Nazlının | |
| Ankarada | |
| Küçük Prensi | |
| Antalyaya | |
| Akdenizin | |

6- Aşağıdaki adların "tekil mi çoğul mu", "özel mi cins mi" olduğunu tablodan işretleyiniz.

| Adlar | Özel | Cins | Tekil | Çoğul |
|-------|------|------|-------|-------|
| Melis | | | | |
| evler | | | | |
| makas | | | | |

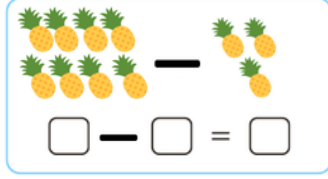
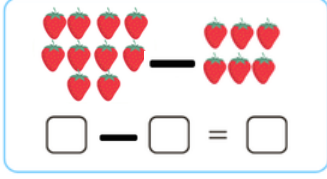
7- Aşağıdaki cümledeki özel adların altını mavi, cins adların altını kırmızı kalem ile çiziniz.

Enes bir kedi sahiplendi, ona güzel oyuncaklar ve mama aldı, kedinin adını da Minnoş koydu.

6

MATEMATİK

1- Aşağıdaki çıkarma işlemlerini yapınız



2- Aşağıda verilen çıkarma işlemlerini yapıp sonuçlarını yazınız.

$$\begin{array}{r} 9 \\ - 2 \\ \hline \dots \end{array}$$

$$\begin{array}{r} 13 \\ - 6 \\ \hline \dots \end{array}$$

$$\begin{array}{r} 18 \\ - 8 \\ \hline \dots \end{array}$$

3- Aşağıdaki terimlere göre çıkarma işlemlerini yazıp çözünüz.

| | | |
|-----------------------------------------------------------------------|-----------------------------------------------------------------------|-----------------------------------------------------------------|
| Eksilen: 16 Çıkan: 5 Fark: | Eksilen: 12 Çıkan: 8 Fark: | Eksilen: 7 Çıkan: 1 Fark: |
| ↓ | ↓ | ↓ |
| $\begin{array}{r} \dots \dots \\ - \dots \\ \hline \dots \end{array}$ | $\begin{array}{r} \dots \dots \\ - \dots \\ \hline \dots \end{array}$ | $\begin{array}{r} \dots \\ - \dots \\ \hline \dots \end{array}$ |

4- Aşağıdaki çıkarma işlemlerinin sonucunu bulup boyayınız.

$$\begin{array}{r} 19 \\ - 7 \\ \hline \dots \end{array}$$

$$\begin{array}{r} 16 \\ - 5 \\ \hline \dots \end{array}$$

↑

12 13 14 10 11 12

5- Aşağıdaki problemleri çözünüz.

19'un 6 eksiği kaçır?

Figen 11 yaşındadır. Kardeşi Figen'den 6 yaş küçüktür. Kardeşi kaç yaşındadır?

Bir sepette 20 yumurta vardı. Yumurtaların 4 tanesi kırıldı. Sağlam kaç yumurta kaldı?

1 onluk 4 birlik kadar şekerim vardı. 8 tanesini yedim. Kaç şekerim kaldı?

HAYAT BİLGİSİ

1- Milli bayramlarımızın tarih ve isimlerini eşleştiriniz.

| | |
|------------|-------------------------------------------|
| 29 Ekim | Atatürk'ü Anma ve Gençlik ve Spor Bayramı |
| 23 Nisan | Cumhuriyet Bayramı |
| 30 Ağustos | Ulusal Egemenlik ve Çocuk Bayramı |
| 19 Mayıs | Zafer Bayramı |

2- Aşağıdaki cümleleri, tablodaki uygun sözcükler ile tamamlayınız.

| | |
|----------------------|----------------|
| Türkiye Cumhuriyeti | Atatürk |
| Çocuk | Milli Mücadele |
| Büyük Millet Meclisi | Samsun |
| Bandırma | Zafer |

- Ülkemizin kurucusu'tür.
- 23 Nisan 1920 tarihinde
..... açılmıştır.
- Mustafa Kemal, 19 Mayıs 1919'da
..... Vapuru ile
ayak basmış ve
başlatmıştır.
- 29 Ekim Cumhuriyet Bayramı'nda
.....'nin kuruluş
yıldönümünü kutluyoruz.
- 30 Ağustos Bayramı'nda
yurdumuzdan düşmanları kovup, Milli
Mücadele'yi kazanmamızı kutluyoruz.
- Her yıl 23 Nisan'da Ulusal Egemenlik
ve
Bayramı'nı kutluyoruz.

3- Aşağıda verilen bayramlardan milli bayram olanları kırmızıya, dini bayram olanları yeşile boyayınız.

| | |
|-----------------------------------|-------------------------------------------|
| Zafer Bayramı | Kurban Bayramı |
| Ulusal Egemenlik ve Çocuk Bayramı | Cumhuriyet Bayramı |
| Ramazan Bayramı | Atatürk'ü Anma ve Gençlik ve Spor Bayramı |

4- Aşağıda verilen dini bayramlar ile ilgili bilgilerden doğru olanların "✓", yanlış olanların "✗" sembolünü boyayınız.

- ✓ ✗ Okulları, sınıfları, evleri Türk Bayrakları ile süsleriz.
- ✓ ✗ Oruç tuttuktan sonra Ramazan Bayramı'nı kutlarız.
- ✓ ✗ Bayramda aile büyüklerimizi arar, ziyaret ederiz.
- ✓ ✗ Kadir Gecesi, Aşure Günü gibi günler dini günlerimizdir.
- ✓ ✗ Kurban Bayramı iki yılda bir kutlanır.

5- Görselleri, ilgili olduğu bayram ile eşleştiriniz.

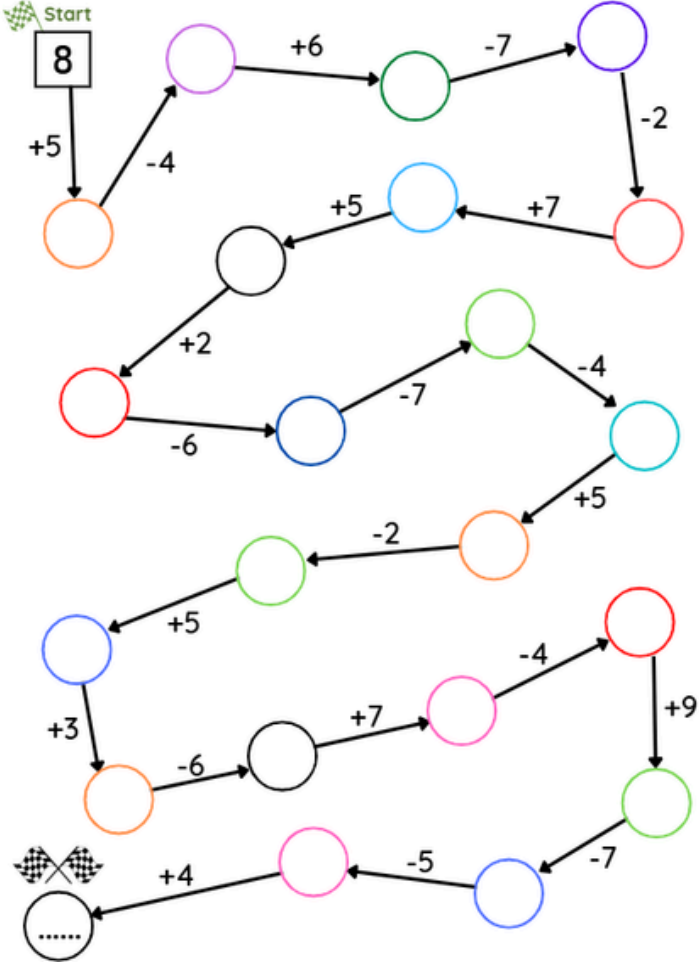


Kurban Bayramı







Ramazan Bayramı

BİL - BUL - EĞLEN


1- Aşağıdaki işlemleri yaparak varış noktasına gelecek sayıyı bulunuz.





2- Aşağıdaki rasfebeleri çözüp gizli sözcükleri bulunuz, boşluklara yazınız.



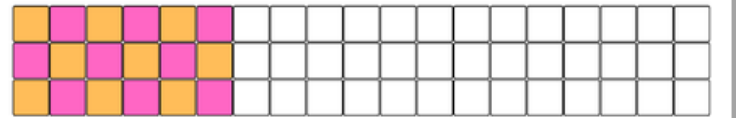

| | |
|-----------------------------------------------------------------------------------------------------------------------------------------------------------------------------|-------|
| Y  M | |
| K  F  | |
|  IT | |
| B   | |

3- Aşağıdaki çıkarma işlemlerini yapıp, çıkan sonuca göre resmi boyayınız.



- 9  mavi
- 8  açık yeşil
- 7  sarı
- 6  koyu yeşil
- 5  kırmızı

4- Aşağıdaki desenleri aynı kurala göre devam ettiriniz.



TÜRKÇE

1- Aşağıdaki görselleri kullanarak, en az üç kelimedenden oluşan birer cümle yazınız.



.....



.....



.....



.....



.....


2- Aşağıdaki yoncaların yapraklarındaki sözcükler ile kurallı cümleler oluşturup yazınız, sonuna uygun işareti koyunuz.



.....

.....


.....



.....

.....

.....



.....

.....

.....

3- Anlamli ve kurallı cümle oluşturmak için cümlelerin sonuna gelmesi gereken kelimeleri işaretleyiniz.

Yarın yağmur

yağacak

esecek

Muzlu pastayı çok

koşarım

severim

Zil çalınca kapıyı

açtı

yazdı

4- Aşağıdaki cümlelerden kurallı olanların önündeki kutuyu işaretleyiniz.

Adım benim Aslı.

Pazardan iki kilo armut aldık.

Okudum yeni aldığım kitabı.

Kalemimi ödünç alabilir miyim?

5- Aşağıdaki cümleler ile ilgili soruları yanıtlayınız.

Gizem yaz tatilinde Muğla'ya gitti.

Kim Muğla'ya gitti?

Gizem ne zaman gitti?

Gizem nereye gitti?

Dedem sabah gazete okudu.

Kim gazete okudu?

Dedem ne okudu?

Ne zaman gazete okudu?

6

MATEMATİK

1- Aşağıdaki toplama işlemlerinde verilmeyen toplananları bularak şifreyi çözünüz.

$$\begin{array}{l} \square + 5 = 9 \\ R \\ 4 + \square = 6 \\ E \\ \square + 7 = 13 \\ i \end{array} \quad \begin{array}{l} 8 + \square = 15 \\ N \\ \square + 4 = 12 \\ A \\ 9 + \square = 18 \\ F \end{array}$$

ŞİFRE

| | | | | | |
|----------------------|----------------------|----------------------|----------------------|----------------------|----------------------|
| 8 | 9 | 2 | 4 | 6 | 7 |
| <input type="text"/> | <input type="text"/> | <input type="text"/> | <input type="text"/> | <input type="text"/> | <input type="text"/> |

2- Aşağıdaki terimlere göre çıkarma işlemlerindeki verilmeyen sayıları bulunuz.

| | | |
|----------------|-------|-------|
| Eksilen: | | |
| Çıkan: 5 | - | |
| Fark: 12 | | |

| | | |
|--------------|-------|-------|
| Eksilen: 15 | | |
| Çıkan: | - | |
| Fark: 6 | | |

| | | |
|----------------|-------|-------|
| Eksilen: | | |
| Çıkan: 4 | - | |
| Fark: 13 | | |

| | | |
|--------------|-------|-------|
| Eksilen: 20 | | |
| Çıkan: | - | |
| Fark: 8 | | |

3- Aşağıdaki problemleri çözünüz.

Hangi sayının 5 fazlası 13 eder?


İki elimde toplam 16 misket var. Sağ elimde 9 tane varsa sol elimde kaç misket vardır?

Hangi sayıdan 7 çıkartırsak sonuç 12 olur?

11 şekerden kaçını yersem geriye 8 şekerim kalır?

6 HAYAT BİLGİSİ

1- Aşağıdaki gök cisimlerinin adlarını altlarına yazınız.



.....

2- Aşağıda verilen bilgileri uygun gök cismi ile eşleştiriniz.



Genellikle geceleri gördüğümüz gök cisimidir.



Üzerinde yaşadığımız gezegendir.



Dünyamızı aydınlatan ve dünyamızı ısıtan gök cisimidir.

3- Aşağıdaki bilgilerden doğru olanların kutusunu yeşile, yanlış olanların kutusunu kırmızıya boyayınız.

Ay, Dünya'dan daha büyüktür.

Dünya üzerinde farklı canlılar yaşar.

Güneş, Dünya'dan daha büyüktür.

Güneş, Dünya'yı soğutur.

Dünyamızın şekli topa benzer.

İnsanlar Güneş üzerinde yaşayabilirler.

4- Aşağıdaki afet isimlerini cümlelerdeki uygun boşluklara yerleştiriniz.

yangın - sel - deprem
çığ - heyelan


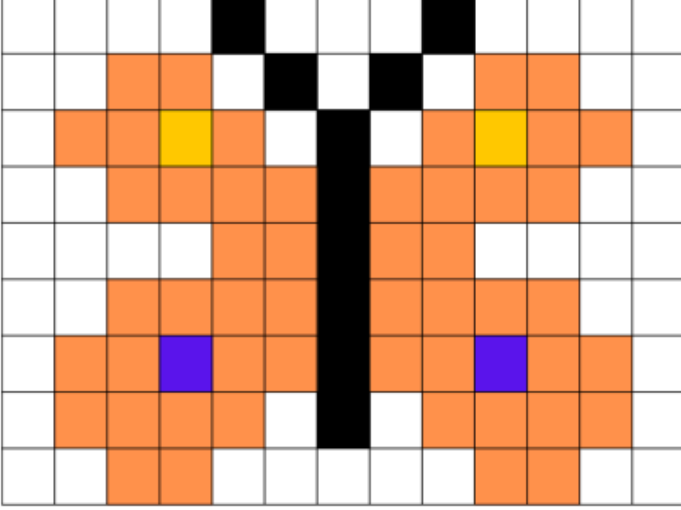
- Kontrolsüz şekilde oluşan yanma olaylarına denir.
- Kayaların ve toprağın, eğimli arazilerden aşağı doğru kaymasıyla oluşan afete denir.
- Yerin altında oluşan ve yeryüzünde de hissedilen sarsıntılara denir.
- Karlı dağlarda biriken kar kütlelerinin yamaçlardan aşağı doğru kayması ile oluşan olaya denir.
- Şiddetli yağmurlar sonucunda oluşan su baskınlarına denir.

5- Aşağıda verilen bilgilerden doğru olanların başına "D", yanlış olanların başına "Y" yazınız.






- Depremi engelleyebiliriz.
- Heyelan ve çığ, dik ve eğimli arazilerde gerçekleşir.
- Deprem anında "çök-kapan-tutun" ile kendimizi korumalı, sakin olmalıyız.
- Ormanlara atılan cam şişeler hiçbir zaman orman yangınına neden olmaz.
- Her ailenin bir afet çantası ve tüm aile bireyleri ile birlikte hazırlanmış bir afet planı olmalıdır.

BİL - BUL - EĞLEN


1- Aşağıdaki kelebeğin aynısını alttaki kareli alanda oluşturunuz.




2- Aşağıdaki rasfebeleri çözüp gizli sözcükleri bulunuz, boşluklara yazınız.

| | |
|------------------------------------------------------------------------------------------------------------------------------------------------------------------------------|-------|
|  Dİ  N | |
| B   | |
|  TUK | |

3- Aşağıdaki panda çok acıkmış. Bambulara ulaşip karnını doyurabilmesi için labirentte ilerlemesi gereken doğru yolu çiziniz.



4- Size hediye edilse çok mutlu olacağınız bir şeyin resmini çiziniz.



TÜRKÇE




1- Aşağıdaki olayları oluş sırasına göre, numaralandırarak sıralayınız.

- Sabah erkenden uyandım.
- Çantamı alıp okula gittim.
- Akşamdan çantamı hazırladım.
- Kahvaltımı yapıp hazırlandım.

2- Aşağıdaki metinde ismi geçen görselleri işaretleyiniz.

YAZ TATİLİ

Bu yaz, dedemlerin köyüne gittik. Tek katlı, bahçeli bir evleri var. Bahçelerinde elma ve armut ağaçları var. Her sabah dedem ile kümese gidip yumurta topladım, ineklerden süt sağdım. Rüzgar olan günlerde de köydeki arkadaşarımla birlikte uçurtma uçurduk. Çok eğlenceli bir tatil geçirdim.



3- Aşağıdaki metne uygun bir başlık yazıp, metnin konusunu belirleyiniz.

.....
 O sabah hava çok güzeldi. Ailece pikniğe gitmeye karar verdik. Annem güzel yiyecekler hazırladı, babam hamak ve minderleri arabaya yerleştirdi, her şey hazır olunca piknik alanına gittik. Kardeşimle top oynadık, hamakta sallandık, hep birlikte yemek yedik. Çok eğlenceli bir gün geçirdik.

Metnin Konusu:

4- Aşağıda verilen sözcüklerin içinde geçtiği kısa bir hikaye yazınız. Hikayenize uygun bir başlık koymayı ve yazınızda noktalama işaretlerini doğru kullanmayı unutmayınız.

gözlük

okul

kırmızı

kalem

.....

.....

.....

.....

.....

.....

.....

.....

.....

.....

.....

6

MATEMATİK

1- Aşağıdaki nesnelerin numaralarını, benzedikleri geometrik şeklin altına yazınız.

| kare | dikdörtgen | üçgen | çember |
|------|------------|-------|--------|
| | | | |




①




②



③



④



⑤



⑥



⑦



⑧

2- Aşağıdaki yönergelere göre doğru işaretlemeleri yapınız.

- Dört kenar olanları işaretleyiniz.



- Üç köşesi olanları işaretleyiniz.



- Köşesi olmayanları işaretleyiniz.



- Üç kenarı olanları işaretleyiniz.



- Dört köşesi olanları işaretleyiniz.



3- Aşağıdaki nesne grafiğine göre soruları yanıtlayınız.

TABLO: Bahçedeki çiçekler

| Çiçekler | Çiçek Sayısı |
|----------|--------------|
| Lale | |
| Gül | |
| Papatya | |

Not: Her görsel bir çiçeği göstermektedir.

- Bahçede en az hangi çiçekten vardır?

.....

- Bahçede kaç tane gül vardır?

.....

- Bahçede toplam kaç çiçek vardır?

.....

4- Aşağıdaki çetele tablosunda Mert'in oyuncaklarının sayısı verilmiştir. Tablodaki bilgilere göre sıklık tablosunu tamamlayınız.

ÇETELE TABLOSU: Mert'in oyuncak sayısı













| Oyuncaklar | Oyuncak Sayısı |
|------------|----------------|
| araba | |
| top | |
| misket | |













SIKLIK TABLOSU: Mert'in oyuncak sayısı

| Oyuncaklar | Oyuncak Sayısı |
|------------|----------------|
| araba | |
| top | |
| misket | |

BİL - BUL - EĞLEN

1- Aşağıdaki tablodaki nesnelerin koordinatlarını örnekteki gibi alta yazınız.

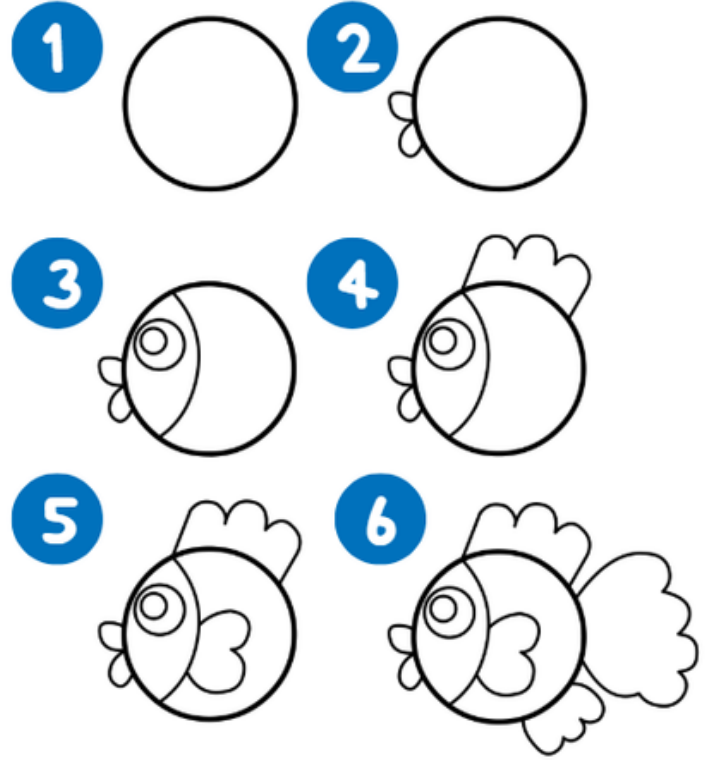
| | Sütunlar | | | | | | | | |
|---|------------------------------------------------------------------------------------|-----------------------------------------------------------------------------------|-----------------------------------------------------------------------------------|-----------------------------------------------------------------------------------|-----------------------------------------------------------------------------------|---|------------------------------------------------------------------------------------|-----------------------------------------------------------------------------------|-----------------------------------------------------------------------------------|
| | A | B | C | D | E | F | G | H | I |
| 1 |  | | | | | |  | | |
| 2 | | | | | | | | | |
| 3 | | |  | | | | |  | |
| 4 | | | | |  | | | | |
| 5 | | | | | | | | |  |
| 6 | |  | | | | | | | |
| 7 | | | |  | | | | |  |
| 8 | | | | |  | | | | |
| 9 |  | | | | | |  | | |

| | | | | | |
|------------------------------------------------------------------------------------|-------------------------------------------------------------------------------------|-------------------------------------------------------------------------------------|-------------------------------------------------------------------------------------|-------------------------------------------------------------------------------------|-------------------------------------------------------------------------------------|
|  |  |  |  |  |  |
| [A, 1] | [,] | [,] | [,] | [,] | [,] |
| Sütun Satır | | | | | |
|  |  |  |  |  |  |
| [,] | [,] | [,] | [,] | [,] | [,] |


2- Aşağıdaki tekerlemeyi takılmadan, en hızlı şekilde okumaya çalışınız.

Uykucu Ülkü, ucu tüllü
üç örtüyü ütüyle
ütüleyip de mi üstüne
örtünmeli, üç örtünün
ucunu tülleyip ütüleyip
de mi üstüne örtünmeli?

3- Aşağıdaki adımları izleyerek bir balık çiziniz, resminizi boyayınız.



ŞİMDİ SEN ÇİZ



4- Aşağıdaki cümleyi kendi düşüncelerine göre tamamla.



Bence ikinci sınıf

.....

.....



NE YAPSAM?

TATİL BOYUNCA EN AZ BİR KEZ YAP, YAPTIKLARINI İŞARETLE.

- Uçurtma yapıp uçur.
- Fasulye çimlendir ve onu büyütebildiğin kadar büyüt.
- Beş ağaç türü öğren.
- Piknik yap.
- Mutfakta ailenle birlikte bir tarif dene.
- Doğa yürüyüşü yap ve bir karınca yuvası bulmaya çalış.
- Sokak hayvanlarına su ver.
- Yeni bir fıkra öğren.
- İp baskısı yap.
- Kağıttan gemi yap, onu bir kaptan yüzdür.
- Topladığın taşları boya.
- Bir takı tasarla.
- Sessiz sinema oyna.
- Basit bir deney yap.
- Kütüphaneye git, kitap ödünç alarak oku.
- Daha önce izlemediğin bir film izle.
- Müze ziyareti yap.